

Niveau : Première

Matière: Géographie

CÔTE D'IVOIRE – ÉCOLE NUMÉRIQUE



THEME 1 :

**DYNAMISME DEMOGRAPHIQUE DE LA COTE D'IVOIRE
ET DANS LE MONDE**

LEÇON2 : LA CROISSANCE DEMOGRAPHIQUE DANS LE MONDE

ET SES PROBLEMES

✓ **Situation d'apprentissage**

Ta classe participe à une conférence organisée par le club Histoire-Géographie sur le thème « population mondiale : défis et opportunités », animée par un professeur de votre établissement. Vous êtes surpris d'entendre les propos suivants du conférencier : « aujourd'hui, les problèmes de développement durable deviennent de plus en plus préoccupants aussi bien dans les pays pauvres que dans les pays riches ; c'est la croissance globale de la population mondiale qui en est la cause »

De retour en classe, vous vous organisez pour mener des recherches afin de caractériser la croissance de la population mondiale, apprécier ses problèmes et suggérer les solutions.

INTRODUCTION

La croissance démographique est l'augmentation de l'effectif d'une population au cours d'une période donnée. Depuis le XIXème siècle, la population mondiale ne cesse de croître. Elle est passée de 1 milliard d'habitants en 1800 à 2,5 milliards en 1950 pour atteindre aujourd'hui environ 7,7 milliards d'habitants. Cette explosion de la population mondiale va engendrer de nombreux problèmes tant dans les pays développés que dans les pays en voie de développement. Problèmes pour lesquels des tentatives de solutions sont envisagées.

I. LA POPULATION MONDIALE UNE CROISSANCE A DOUBLE VITESSE

I-1 Une croissance démographique lente dans les pays développés (voir courbe d'évolution de la population d'un pays développé)

Raisons :

- Impact du développement économique (coûts élevés de la vie et de l'éducation des enfants, émancipation de la femme, changement des mentalités...)
- Adoption des politiques antinatalistes (*utilisation de méthodes contraceptives, planning familial ...*)
- Transition démographique achevée dans la majorité des pays industrialisés (baisse des taux de natalité et de mortalité, faible croissance naturelle **0,07°/°**.)

I-2 Une explosion démographique dans les pays en développement (voir courbe d'évolution de la population ivoirienne)

Raisons :

- Une politique démographique de l'État favorable à la croissance démographique
- Baisse du taux de mortalité (8,4 décès pour 1000 habitants)
- Amélioration des infrastructures et du système de santé
- Taux de natalité toujours élevé (28,2 pour 1000 habitants) en 2020,
- Les pratiques culturelles et religieuses qui rejettent l'utilisation de méthodes contraceptives.
- Les mariages précoces
- L'amélioration des conditions de vie...

Activité d'application 1:

Mets une croix dans la case qui convient selon que l'affirmation est vraie ou fausse :

	VRAI	FAUX
1- La population mondiale augmente rapidement dans les pays développés		
2- la croissance démographique mondiale est aujourd'hui plus forte à cause de l'amélioration des conditions et du niveau de vie.		

3- La croissance démographique des pays en développement est aujourd'hui accélérée.		
4- Les pays en voie de développement n'ont pas encore atteint leur transition démographique.		
5- L'Afrique de l'ouest est un grand foyer de peuplement		
6- Le sommet de la pyramide des âges des pays développés est effilé.		
7- La structure par âge du Bénin est identique à celle de l'Allemagne.		

II. LA STRUCTURE ET LA REPARTITION DE LA POPULATION MONDIALE

1- Structure démographique dans le monde

- **Structure des pays en développement**

La pyramide des âges des pays en développement se présente sous une forme triangulaire ou en parasol. Elle a une base large qui indique une jeunesse nombreuse, résultat d'un taux de natalité et une fécondité élevée (4 à 6 enfants par femme), des flancs concaves (*arrondis à l'intérieur*) qui symbolisent une population adulte moins élevée et un sommet effilé qui est le signe d'une proportion de vieillards très faible liée à une faible espérance de vie.

- **Structure des pays développés**

La pyramide des âges des pays développés présente une base rétrécie qui traduit une natalité et une fécondité faible, signe d'une faible proportion de jeunes, les flancs sont *convexes*, (renflés) qui témoignent d'une population adulte assez importante. Le sommet écrasé (*ou large*) signifie qu'il y a une forte population de vieillards (supérieure à 10%) donc une espérance de vie très longue ≥ 80 ans. La forme générale des pyramides des pays développés se présente sous la forme d'ogive, d'As de pique et en urne.

2- **Une inégale répartition de la population mondiale (carte)**

La population mondiale est inégalement répartie sur la surface du globe. Cette répartition s'explique principalement par des contraintes naturelles (froid extrême, montagnes, déserts chauds et arides, les forêts denses...). Sa densité moyenne de la population est de 56 hbts au km² mais quelques foyers concentrent de nombreux individus alors que d'autres régions sont vides ou très faiblement peuplées.

- **Les foyers de peuplement**

On distingue trois principaux foyers de peuplement qui regroupent 4,75 milliards d'habitants soit 61% de la population mondiale. Ce sont :

- L'Asie de l'Est (2,3 milliards hbts) : Chine, Japon, Philippines, Indonésie, Corée, Indonésie
- L'Asie du Sud (1,7 milliards hbts) : Inde, Pakistan, Népal, Bangladesh
- L'Europe (743 millions hbts) :

Il existe d'autres foyers de peuplement moins importants : le golfe de Guinée (260 millions d'hbts), le nord-est des États-Unis (150 millions d'hbts), le sud-est du Brésil (116 millions d'hbts)

- **Les régions faiblement peuplées**

Alors que plus de la moitié de la population mondiale vit concentrée sur le littoral, certains espaces sont vides ou faiblement peuplés. Il s'agit des régions froides et polaires, des déserts chauds, des forêts denses.

III. LES PROBLÈMES ET LES POLITIQUES DÉMOGRAPHIQUES DANS LE MONDE

1- Les problèmes et politiques démographiques dans les pays en développement

Selon que la population est importante ou faible et connaît une croissance rapide ou lente ou même une décroissance, elle pose des problèmes.

- Les problèmes

La croissance accélérée dans les pays en développement est source de nombreux problèmes tels :

- Socioéconomiques
 - ✓ *pauvreté généralisée*
 - ✓ *Famine et sous-alimentation*
 - ✓ *Insuffisance des infrastructures socioéconomiques de base (eau, électricité, école, hôpitaux, logement en milieu urbain, emplois...)*
 - ✓ *Multiplication de bidonvilles*

- ✓ *immigrations clandestines vers les pays de l'Europe et d'Amérique du nord*
- ✓ *problèmes d'insécurité, délinquance juvénile*
- ✓ *exode rural*
- problèmes environnementaux (*pollution, insalubrité, disparition du couvert végétal, désertification, disparition des espèces animales et végétales, ...*)
- Les politiques démographiques

Thomas Robert Malthus, pasteur et économiste britannique (1766-1834) propose, face à la croissance rapide de la population, la restriction démographique. Le malthusianisme établit que plus la population croît vite, plus vite les ressources peuvent s'épuiser et entraîner la famine et la misère. Il suggère alors :

- L'espacement des naissances ;
- Le recul de l'âge de mariage ;
- L'abstinence sexuelle.

Cette vision est partagée par beaucoup de pays du tiers-monde, qui optent dès lors pour les politiques anti-natalistes.

Certains choisissent la forme souple qui consiste à sensibiliser sur :

- ✓ Le planning familial ;
- ✓ La scolarisation de la jeune fille ;
- ✓ La distribution des contraceptifs et les méthodes contraceptives.

Les résultats sont perceptibles au niveau des pays latino-américains (Brésil) et de certains africains tel (l'Algérie). Cependant dans la plupart des pays africains, les résultats sont lents en raison des pesanteurs culturelles, de l'analphabétisme et du manque de changement de comportement.

D'autres pays surtout de l'Asie (Chine, Corée du sud, Inde) ont opté pour la forme radicale à travers :

- ✓ Le retard de l'âge de mariage ;
- ✓ La réduction du nombre d'enfants par famille (1 par famille en Chine) ;
- ✓ La stérilisation des couples ayant 3 enfants
- ✓ La Castration de de certains hommes ;

- ✓ La réduction des allocations des allocations familiales ;
- ✓ L'augmentation des impôts pour les familles nombreuses;

Les résultats ont été nets. On a assisté à une baisse de la croissance démographique. Cette politique a provoqué malheureusement des crises dans certains pays tel qu'en l'Inde et l'infanticide en Chine.

2- Les problèmes et politiques démographiques dans les pays *développés*

- Les problèmes :
 - ✓ vieillissement de la population ;
 - ✓ insuffisance de la main d'œuvre ;
 - ✓ accroissement de la prise en charge de la masse des personnes du troisième âge pour l'État (*les pensions, les maisons de retraite, les services gériatriques pour les vieux*)
 - ✓ de renouvellement des générations (*à cause de la faible natalité*) et de solde de croissance de la population de plus en négative en Europe (plus de décès que de naissance)
- politique démographique : les anti-malthusianismes

Face au vieillissement des populations, les anti-malthusiens proposent un encouragement maîtrisé des naissances. Leurs raisons :

- ✓ les populations nombreuses, constituent une main d'œuvre importante et un marché dynamique ;
- ✓ les puissances démographiques tels que la Chine, l'Inde, l'Indonésie ... sont des puissances économiques ;
- ✓ la limitation des naissances n'est pas la solution mais l'accroissement des ressources économiques ;

Ils proposent les mesures suivantes pour encourager la natalité et les familles nombreuses :

- ✓ subvention des frais de scolarité,
- ✓ augmentation des allocations familiales,
- ✓ facilitation à l'accès au logement,
- ✓ allongement des congés de maternité,

✓ réduction des impôts

Malgré ces avantages, cette politique connaît des limites en raison de la cherté du coût de la vie.

Activité d'application 2:

Mets à la place qui convient dans le texte à trous ci-dessous les mots ou groupe de mots suivants :

Une base rétrécie /déséquilibre / un sommet effilé/pays en voie de développement / pauvreté / chômage / pays développés /une fécondité faible/une forme en parasol.

Un..... entre la croissance de la population et les ressources disponibles dans les entraîne des problèmes tels que la..... et leLe vieillissement démographique très élevé dans les..... constitue la caractéristique principale de la structure de la population de ces pays. La pyramide des âges des pays développés présentequi traduit une natalité faible. Celle des pays en développement se présente sous..... avec

CONCLUSION

La population mondiale croît rapidement. L'allure est cependant différente dans les pays développés et dans les pays en voie de développement. Des politiques démographiques sont préconisées par chacun de ces groupes et par chaque État afin de trouver un équilibre entre la masse de populations et les ressources disponibles.

Situation d'évaluation

Tu participes à une conférence organisée par le club Histoire-Géographie sur le thème « population mondiale : défis et opportunités », animée par un professeur de ton établissement. Le conférencier, au cours de son intervention déclare : « Les pays en développement sont les principaux responsables de la croissance accélérée de la population mondiale. Si rien n'est fait, il leur sera difficile d'atteindre les objectifs du millénaire pour le développement ».

Consignes

- 1- Dis de quoi il s'agit dans cette situation.
- 2- Explique le passage suivant : « Les pays en développement sont les principaux responsables de la croissance accélérée de la population mondiale ».
- 3- Partages-tu le point de vue de l'auteur selon lequel : « Si rien n'est fait, il leur sera difficile d'atteindre les objectifs du millénaire pour le développement » ?

EXERCICES

Activité d'application 1

Coche la bonne réponse

N°	Affirmations	
1	Avant 1800, la croissance démographique est très lente.	
2	La croissance de la population mondiale s'accélère à partir du XXème siècle.	
3	Dans les pays développés, la croissance démographique est forte.	
4	Les pays en voie de développement ont une population stable.	
5	L'Afrique subsaharienne est un foyer de peuplement.	
6	Le sommet de la pyramide des âges des pays développés est élargi.	
7	La structure par âge de la Côte d'Ivoire est identique à celle de l'Allemagne.	

Activité d'application 2

Mets à la place qui convient dans le texte à trous ci-dessous les mots ou groupe de mots suivants : *pauvreté- chômage- déséquilibre- pays développés- ressources- structure- main d'œuvre- pays en voie de développement.*

Il existe unentre la croissance de la population et lesdisponibles dans lesqui entraîne la et le Le vieillissement démographique, caractéristique principale de la des constituera à long terme un manque depour leur développement.

Activité d'application 3

ANNEES	1815	1900	1927	1960	1974	1987	2012	2017
POPULATION EN MILLIARDS	1	1,6	2	3	4	5	7	7,6

Source : document adapté à partir de www.planetelescope.com in Google, consulté le 14 octobre 2018 à 9h 30 mn.

Consigne :

Trace la courbe d'évolution de la population mondiale de 1815 à 2017.

Echelle : 2 cm \longrightarrow 25 ans

2 cm \longrightarrow 1 milliard d'habitants

SITUATION D'EVALUATION N°1

A la veille des congés de pâques, le préfet de la région du Gbêkê s'est rendu dans votre établissement pour prodiguer des conseils aux élèves afin d'éviter le phénomène des congés anticipés Profitant de cette visite, le représentant du chef de l'Etat a affirmé que la population dans les pays en voie de développement est extrêmement jeune Il a ajouté que cette population à majorité jeune est une entrave au développement de ces pays.

Le préfet a même indiqué que **le dynamisme démographique des pays en voie de développement est à l'origine de nombreux problèmes de développement.**

IL a terminé son entretien avec les élèves en affirmant que les pays développés sont confrontés aussi à des problèmes démographiques.

CONSIGNES

- 1- Dis de quoi il est question dans cette situation.
- 2- Explique le passage souligné : « Le dynamisme démographique...de nombreux problèmes de développement ».
- 3- Partages-tu cette affirmation du préfet ? « Cette population à majorité jeune est une entrave au développement des pays en voie de développement »

SITUATION D'EVALUATION N°2

La Radiotélévision Ivoirienne (RTI) a consacré une émission à la journée mondiale de la population du 11 juillet dernier. Au cours de cette émission, le représentant du Programme des Nations Unies pour le Développement (PNUD) en Côte d'Ivoire El BENLAMLIH MOUSTAPHA a affirmé : « *il y a urgence que les gouvernants dans les pays en développement intègrent dans leur politique la question de l'évolution démographique* ».

Bobo, élève de ta classe qui a suivi cette émission pense que les pays développés sont plus impactés par l'évolution démographique.

Consignes

- 1) Identifie le problème posé dans la situation
- 2) Explique les propos du représentant du PNUD El BENLAMLIH MOUSTAPHA : « *il y a urgence que les gouvernants dans les pays en développement intègrent dans leur politique la question de l'évolution démographique* ».
- 3) Penses-tu que les solutions proposées aux problèmes démographiques diffèrent d'un pays à un autre ?

□ DOCUMENTATION

Document 1

Evolution de la population mondiale

Années	1650	1750	1800	1850	1900	1920	1946	1960	1966	1976	1994	2025
Population (en millions d'habitants)	545	728	907	1170	1620	1894	2216	3010	3550	4000	5630	10000

Source: FNUAP, *état de la population mondiale 1650-2025*

Document 2

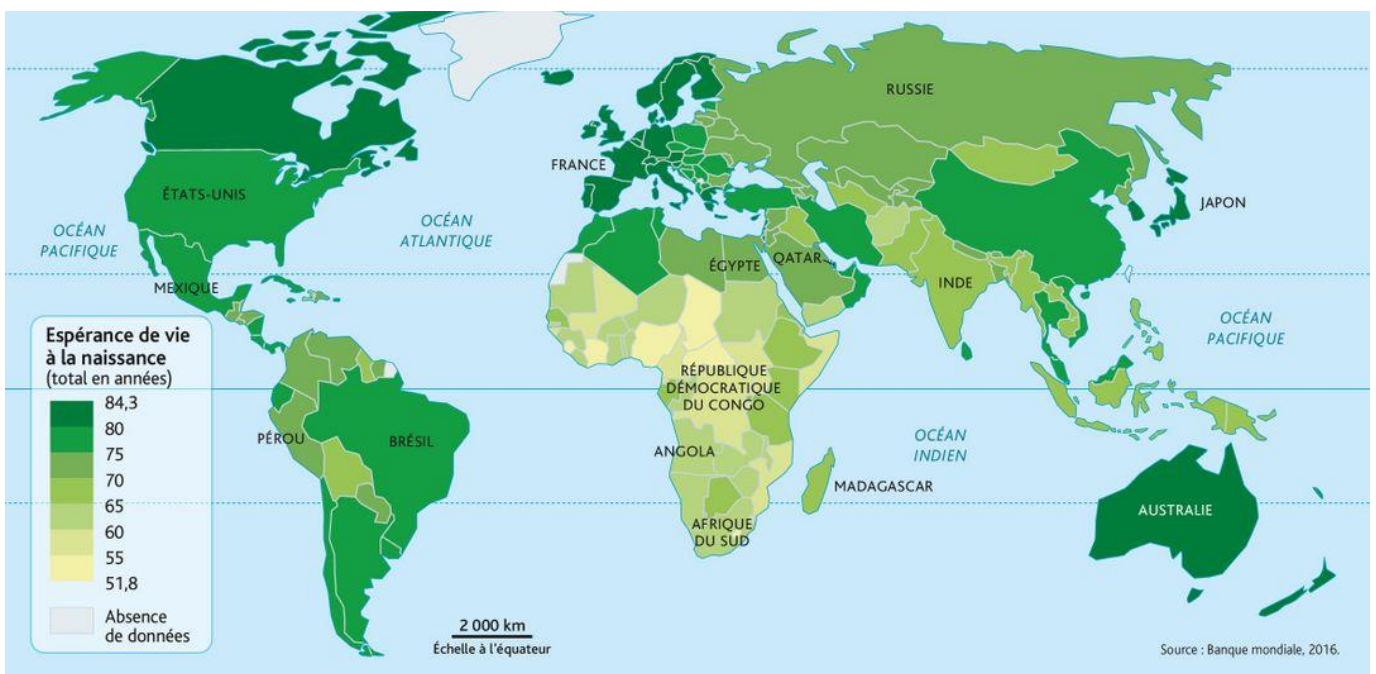
Théorie prônant la limitation des naissances, selon les thèses de l'anglais Malthus (1766-1834) qui estimait que la population croissant selon un rythme géométrique et la production agricole selon un rythme arithmétique, la famine générale était inéluctable. Les gens pauvres devaient donc absolument limiter le nombre de leurs enfants. Ces thèses ont été infirmées par le développement économique provoqué par la révolution industrielle et l'accroissement du commerce mondial des céréales. Les théories malthusiennes ont repris de l'actualité après le déclenchement de la forte croissance démographique dans les pays du tiers-monde. Celle-ci nécessite de grands efforts de développement mais elle se ralentit désormais.

En s'opposant aujourd'hui à toute forme de croissance industrielle et à la réalisation de grands ouvrages (y compris les barrages pour l'irrigation et les digues contre les inondations), sous prétexte des risques de pollution

ou de dégradation de l'environnement, les mouvements écologistes se font implicitement les champions des thèses malthusiennes qui prétendent bloquer la croissance démographique et la montée des besoins des populations du tiers-monde.

Source : LACOSTE (Y.), De la géopolitique aux paysages, Paris, Armand Colin, 2003, 413 P.

Document 3




© Belin Éducation/Humensis, 2019 Géographie, 2nd, 2019
© EdiCarto

SOURCE : https://manuelnumeriquemax.belin.education/geographie-seconde/topics/geo2-theme2-2-110-a_des-trajectoires-demographiques-differenciees consultée le 01 Septembre 2021 à 18h48

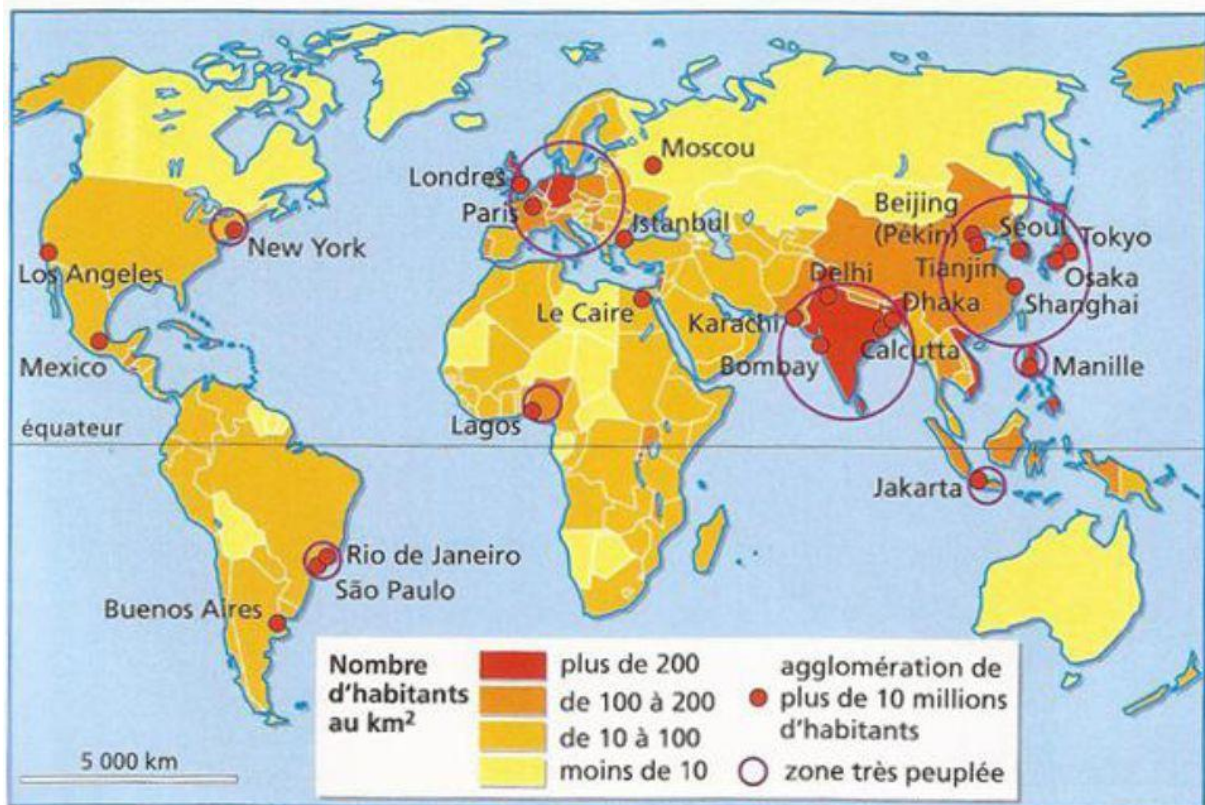
Document 4

FIN DE LA POLITIQUE DE L'ENFANT UNIQUE EN CHINE



Source :

<http://actuendessin.over-blog.com/2015/11/fin-de-l-enfant-unique-en-chine-par-kroll.html> consultée le 01 Septembre 2021 à 18h55



Source : <https://slideplayer.fr/slide/3413233/> consultée le 01 Septembre 2021 à 18h55